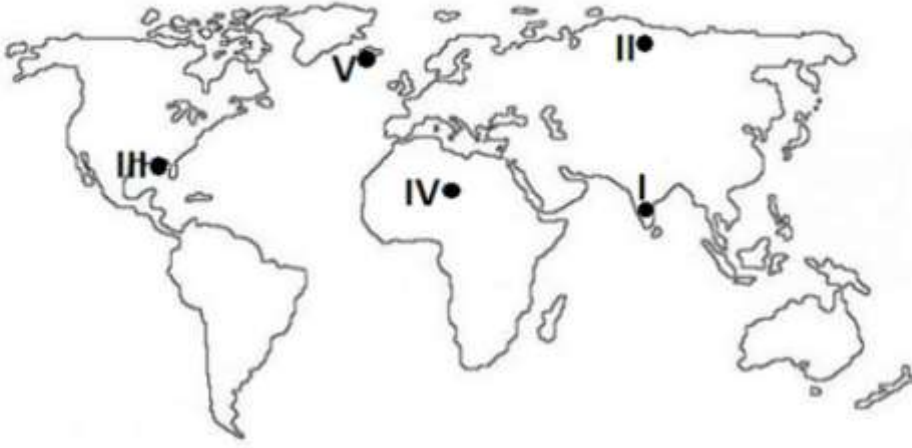


1. Coğrafya dersinde bir grup öğrenci buldukları yörenin coğrafi özelliklerini anlatan bir sunum hazırlamak istemektedir. Buna göre aralarında iş bölümü yapan öğrencilerden İlgin yörenin yeryüzü şekillerini, Büşra iklim özelliklerini, Ali bitki örtüsünü ve Mehmet yerüstü ve yer altı su kaynaklarını araştırıp sunuma katkı sağlayacaktır.

Aşağıdakilerden hangisinde adı geçen öğrencilerin araştırma konuları coğrafyanın hangi alt bilim dalı konusu içinde yer alır?

	ILGIN	BÜŞRA	ALI	MEHMET
A)	Biyocoğrafya	Hidrografya	Jeomorfoloji	Klimatoloji
B)	Klimatoloji	Biyocoğrafya	Hidrografya	Jeomorfoloji
C)	Jeomorfoloji	Klimatoloji	Biyocoğrafya	Hidrografya
D)	Hidrografya	Biyocoğrafya	Klimatoloji	Jeomorfoloji
E)	Jeomorfoloji	Hidrografya	Biyocoğrafya	Klimatoloji

2.

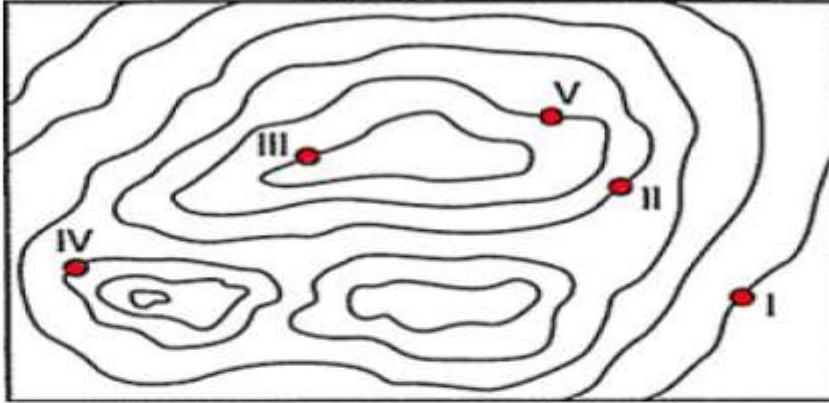


Haritada bazı bölgelerin Dünya üzerindeki konumları verilmiştir.

Haritada gösterilen bölgeler ile bu alanlarda yaşanan doğal afet eşleştirmelerinden hangisi yanlış verilmiştir?

- A) I - Tsunami
 B) II - Deprem
 C) III - Kasırga
 D) IV - Kuraklık
 E) V - Volkanizma

3. Aşağıda bir yöreye ait izohips haritası ve bazı noktalar verilmiştir.



Buna göre verilen haritada noktalarla ilgili hangi bilgi yanlıştır?

- A) III numara yükseltisi en fazla olan yerdir.
 - B) Bu haritada "boyun" vardır.
 - C) Engebeli bir sahadır.
 - D) II ve IV numaralı yerlerin yükseltisi aynıdır.
 - E) IV numaralı yerin yükseltisi V numaralı yerden daha fazladır.
4. İzotermiler aynı sıcaklığa sahip noktaların birleştirilmesiyle elde edilen eş sıcaklık eğrileridir. Dünya üzerinde sıcaklığın dağılışı izoterm haritaları ile gösterilir. Dünyada yıllık sıcaklık ortalamaları incelendiğinde; sıcaklığın -10°C ile 30°C arasında değiştiği görülmektedir.

Aşağıdakilerden hangisi yeryüzünde sıcaklık dağılışını küresel anlamda en fazla etkiler?

- A) Okyanus Akıntıları
- B) Yükselti
- C) Enlem
- D) Bakı
- E) Nemlilik

5.



Yukarıda ki izohips haritasının bulunduğu yöreye gezi düzenleyen bir grup öğrenci gezinin sonunda bazı izlenimlerini birbirleriyle paylaşıyorlar.

Buna göre öğrencilerin yöreye ilgili yapmış olduğu çıkarımlardan hangisinin yanlış olduğu söylenebilir?

- A) Arazide geniş bir çukur bulunmaktadır.
- B) Biri yüksek iki tepe bulunmaktadır.
- C) Akarsu kaynağı kuzeydedir.
- D) Kıyı falez oluşumuna uygun değildir.
- E) Yöredeki akarsu açık havzalıdır.

6. Aşağıda Türkiye'deki kırsal bir yerleşim bölgesinin bazı özellikleri verilmiştir.

- Küçükbaş hayvancılık yaygın yapılır
- Dağınık dokuda yerleşim tipi görülür.
- Göçe dönük itici faktörler etkilidir.
- Yaşlı nüfus oranı fazladır.

Bu özellikler göz önüne alındığında belirtilen bölge için aşağıdakilerden hangisi söylenemez?

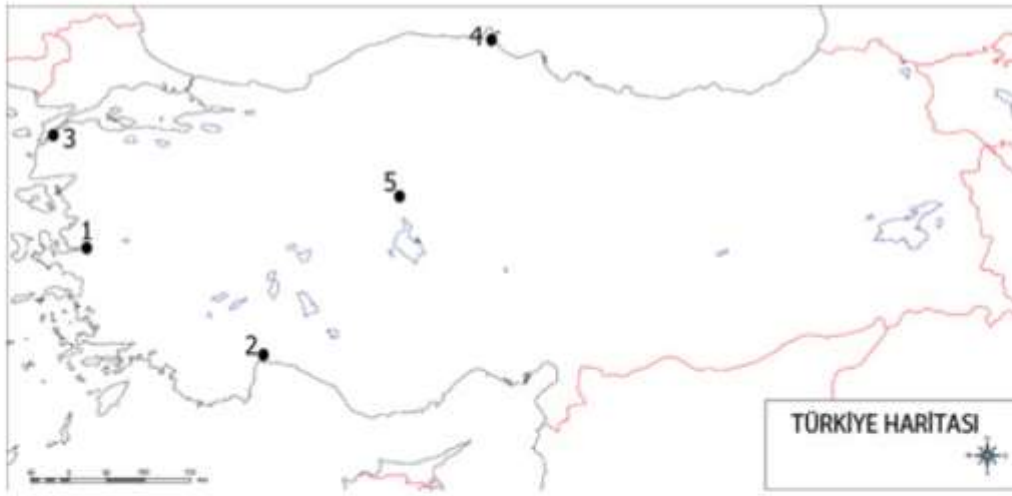
- A) Dağlık ve engebeli bir arazidir.
- B) Tarıma dayalı ekonomik yapı ağırlıklıdır.
- C) Yaylacılık faaliyeti yapılır.
- D) Nüfus artış hızı düşüktür.
- E) Ulaşım olanakları zordur.

7. İnsanlık temel ihtiyaçlarının peşinde sürekli yer değiştirmek yerine, ulaşımın kolay, su kaynaklarının bol, iklim özelliklerinin uygun olduğu yerlere kalıcı olarak yerleşmeye başlamıştır.

Buna göre aşağıdaki bölgelerden hangisi insanların ilk yerleştiği alanlar arasında sayılamaz?

- A) Nil Nehri Havzası
- B) Sibirya
- C) Mezopotamya
- D) Sarı ırmak Havzası
- E) Ganj Vadisi

8.



Coğrafya dersinden proje ödevi alan Mehmet, öğretmenin verdiği haritada yer alan beş merkeze ait rüzgar esme sayılarını araştırmış ve bunun sonucunda aşağıdaki rüzgar güllerini çizmiştir. Ancak yaptığı çizimde iki merkeze ait rüzgar gülünü karıştırdığını fark etmiştir.



Buna göre Mehmet hangi merkezlere ait rüzgar güllerinin rakamlarını değiştirirse hatayı düzeltmiş olur?

- A) 1 ile 3
- B) 1 ile 5
- C) 2 ile 4
- D) 3 ile 4
- E) 3 ile 5

- 9 . Günümüzde uluslararası ticarete daha çok deniz yolları kullanılmaktadır. Kıyılarında sanayi, ticari nüfus bakımından önemli yerleşim merkezleri bulunan yerler , denizyolu ağının geliştiği alanlardır.

Buna göre aşağıda verilen su yollarından hangisinin daha işlek olması beklenir?

- A) Macellan
B) Bering
C) Korint
D) Panama
E) Malakka

- 10 . Dünya'da görülen büyük iklim tiplerinden bazılarının sıcaklık ve yağış koşulları verilmiştir.



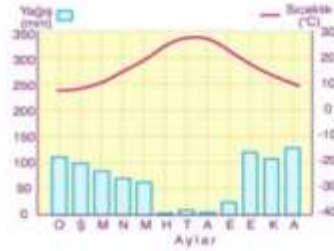
I



II



III



IV



V

Buna göre aşağıda verilen doğal bitki örtülerinden hangisinin yetiştiği iklim bölgesi grafiği verilmemiştir?

- A) Geniş yapraklı orman
B) Tundra
C) Savan
D) Karma orman
E) Çayır

Cevaplar

- | | |
|----|---|
| 1 | C |
| 2 | B |
| 3 | E |
| 4 | C |
| 5 | C |
| 6 | D |
| 7 | B |
| 8 | B |
| 9 | D |
| 10 | B |